



浙江省



高中历史

必修 中外历史纲要（下）

目录 Contents

| | | |
|-------|-------------------|------|
| 默写 1 | 文明的产生与早期发展 | 默 01 |
| 默写 2 | 古代世界的帝国与文明的交流 | 默 02 |
| 默写 3 | 中古时期的欧洲 | 默 03 |
| 默写 4 | 中古时期的亚洲和古代非洲与美洲 | 默 04 |
| 默写 5 | 全球航路的开辟 | 默 05 |
| 默写 6 | 全球联系的初步建立与世界格局的演变 | 默 06 |
| 默写 7 | 欧洲的思想解放运动 | 默 07 |
| 默写 8 | 资产阶级革命与资本主义制度的确立 | 默 08 |
| 默写 9 | 影响世界的工业革命 | 默 09 |
| 默写 10 | 马克思主义的诞生与传播 | 默 10 |
| 默写 11 | 第一次世界大战与战后国际秩序 | 默 11 |
| 默写 12 | 十月革命的胜利与苏联的社会主义实践 | 默 12 |
| 默写 13 | 第二次世界大战与战后国际秩序的形成 | 默 13 |
| 默写 14 | 冷战与国际格局的演变 | 默 14 |
| 默写 15 | 资本主义国家的新变化 | 默 15 |
| 默写 16 | 社会主义国家的发展与变化 | 默 16 |
| 默写 17 | 世界多极化与经济全球化 | 默 17 |
| 默写 18 | 和平发展合作共赢的历史潮流 | 默 18 |

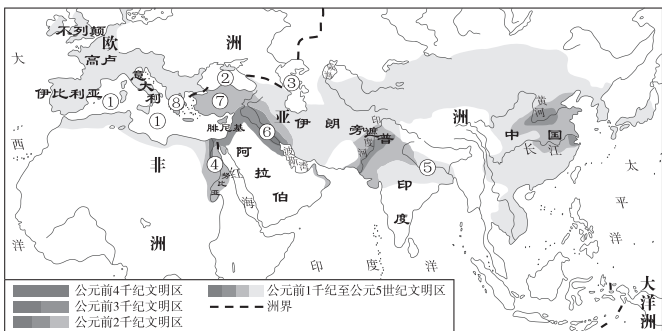
默写 1 文明的产生与早期发展

核心填空

- 各个文明基本独立发展,表现出明显的_____特征。
- 公元前 3500 年左右,在两河流域产生了最初的文明,古巴比伦王国国王_____基本统一了两河流域,建立_____制度。_____是世界上最早的文字。《_____》是目前所知最早的史诗。
- 公元前 3500 年左右,埃及文明兴起。_____掌握着最重要的权力。主要文字是_____文字。埃及人制定了世界上第一部_____历。_____的建造不仅体现了法老的至上权威,而且证明了埃及人在建筑和数学方面都达到了较高的水平。_____是古代埃及主要的书写材料和重要的出口物资。
- 公元前 6 世纪,印度_____的产生对种姓制度产生一定冲击;《_____》和《_____》是世界上著名的史诗。印度人创造了从 1 到 9 的数字,发明了“_____”,提出_____的方法。
- 公元前 2 千纪,古希腊诞生_____文明和迈锡尼文明。公元前 8—前 6 世纪,_____逐渐发展起来,典型特征是_____,公民直接参与国家管理。_____和雅典是其中最为著名的两个城邦。斯巴达是少数人掌握政权的_____的代表。_____在西方被认为是“史学之父”。_____成为政治史传统的奠基人。_____,柏拉图和亚里士多德奠定了西方哲学的基础。

时空填充

下图为古代主要文明示意图,请指出下列序号所代表的地区、海洋、湖泊或河流。



- ① _____ ; ② _____ ; ③ _____ ;
 ④ _____ ; ⑤ _____ ; ⑥ _____ ;
 ⑦ _____ ; ⑧ _____ 。

术语简答

- 指出《汉谟拉比法典》颁布的主要目的、主要内容及地位。
- 指出印度种姓制度的特点、主要内容及理论基础。
- 指出雅典公民的主要权利,并对雅典民主作出简要的评价。

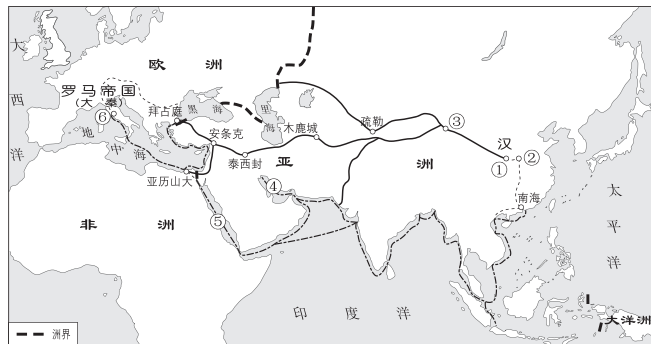
默写 2 古代世界的帝国与文明的交流

核心填空

1. 农耕文明扩展的条件: 有比较发达的 _____、相对较高的 _____、复杂的社会组织和管理系统。
2. 波斯帝国兴起于 _____ 世纪的伊朗高原, 迅速扩张, 建立起地跨 _____ 三大洲的帝国。它继承了西亚地区传统的 _____ 制度; 地方实行 _____; 建立了从中央到地方比较完善的官僚体系和 _____ 系统, 由波斯人担任最重要的职务, 以统治社会发展水平和风俗都非常不同的广大地区。
3. 公元前 4 世纪晚期, 马其顿国王 _____ 灭亡了 _____ 后, 建立了地跨欧亚非三大洲的帝国。他继承波斯帝国的基本制度, 宣布 _____; 地方实行 _____ 制, 任用马其顿人和希腊人担任主要职务, 推广 _____ 文化。
4. 古代罗马原是意大利中部的一个城邦, 凭借由 _____ 组成的强大军队不断扩张, 把整个 _____ 变成了罗马的内海, 这一过程中, _____ 迅速发展起来。公元 1 世纪, _____ 产生于巴勒斯坦, 4 世纪末成为罗马帝国国教。5 世纪后期, 在内外矛盾夹击下, _____ 灭亡。

时空填充

下图为汉朝与罗马帝国交往的主要路线示意图, 读图并完成下列要求。



1. 甘英出使大秦, 中途受阻返回, 但到达了波斯湾沿岸, 即图中 _____ 处(填序号), 当时中国政权定都于 _____ (填序号)。
2. 请填出下列序号所代表的城市。
③ _____; ⑥ _____。
3. 当时陆上丝绸之路起点是 _____ (填序号)。

术语简答

1. 概括罗马帝国 1—2 世纪空前繁荣的原因。
2. 分析字母文字在腓尼基兴起的原因, 并简述其演化的历程。
3. 概括古代文明交流的主要途径, 并用史实加以说明。

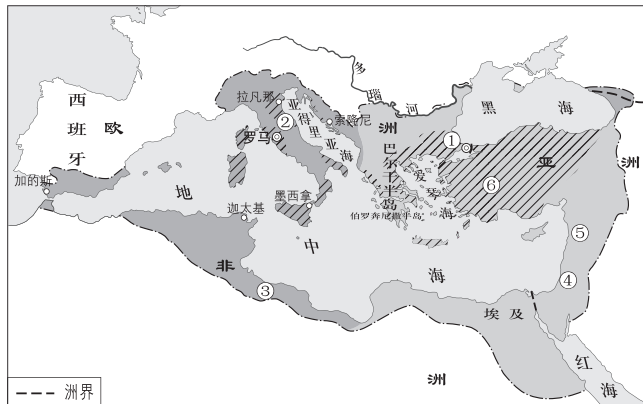
默写3 中古时期的欧洲

核心填空

- 5世纪后期，_____人消灭西罗马帝国，欧洲开始进入封建社会。西欧封建社会的基本特征是_____制度、庄园与农奴制度，前者是社会动荡和_____的产物。
- _____是中古西欧基本的农业经济组织，耕地由_____和农民份地组成。农民从领主处领有的土地，分为农奴份地和_____份地，自耕自收。农奴在法律上是_____人，被固着于土地上。领主或其管家主持_____，审理庄园内的各种案件，维护庄园的秩序。
- 中古中后期，随着社会环境逐渐稳定，经济增长，西欧各国_____有所加强。15世纪晚期都铎王朝建立后，_____逐渐形成了较为强大的王权。到15世纪晚期，法兰西通过扩大王室领地，基本完成了法兰西的统一。这些王国为西欧_____的发展奠定了基础。
- 俄罗斯发端于9世纪建立的_____，深受拜占庭帝国的影响。在反抗_____统治过程中，_____逐渐兴起，在16世纪初，建立起_____国家。1547年，加冕为沙皇的_____颁布新法典，改组中央机关，镇压大贵族，巩固和强化了_____。

时空填充

下图为6—7世纪拜占庭帝国示意图，读图并完成下列要求。



- 东罗马帝国被称为拜占庭帝国与图中_____ (填序号)处城市有关。
- 查士丁尼继位后占领的地区有_____ (填序号)。
- 请写出下列序号所代表的地区。
④_____；⑤_____；⑥_____。

术语简答

- 简述封君封臣制的主要内容及影响。
- 指出西欧城市争取自治的原因、方式及影响。
- 指出《查士丁尼法典》的地位，并指出当时其他几部著名法典。

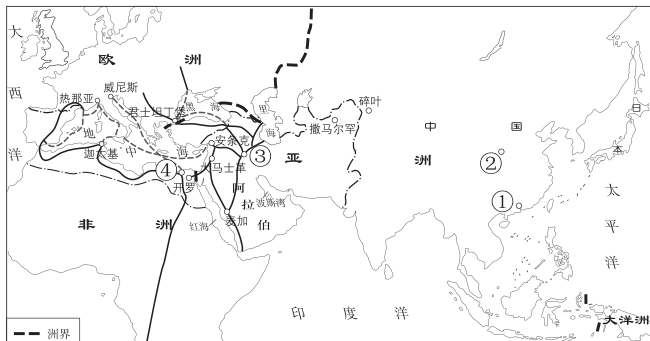
默写 4 中古时期的亚洲和古代非洲与美洲

核心填空

- 7 世纪初,穆罕默德创立_____。622 年,穆罕默德迁居麦地那,建立政权;到穆罕默德去世时,阿拉伯半岛基本统一。7 世纪中期起,阿拉伯人大规模向外扩张,先后征服叙利亚、_____、伊朗和北非的广大地区。到_____中期,建立起地跨亚非欧三洲的大帝国。最高统治者_____掌握政治、军事和宗教大权,下设各部大臣,其中以掌管_____和税务的部门最为重要。
- 13 世纪,奥斯曼人从小亚细亚兴起,先后征服小亚细亚、_____和东南欧部分地区,并于 1453 年攻占_____,灭亡拜占庭帝国,将君士坦丁堡改名为_____,定为首都。16 世纪后期,建立起地跨亚非欧三洲的大帝国。_____是宗教领袖、国家和军队的主宰、全国土地的最高所有者。
- 646 年,孝德天皇颁布改新诏书,开始改革,史称“_____”,日本模仿中国建立了_____国家。10 世纪,日本的中央集权体制开始瓦解,此后,日本的_____不断壮大,随之而来的是_____的重要性日益增强,12 世纪末,其首领_____在镰仓建立幕府,日本进入幕府政治时期。这一体制下,天皇无实权,以_____为首的幕府掌握实权;将军与武士结成_____关系。
- 7 世纪末,_____初步统一了朝鲜半岛,模仿中国建立中央集权国家。10 世纪初,新罗人王建建立_____王朝。16 世纪末,中朝军民联合抗击_____对朝鲜的侵略,战斗中明朝大将_____、朝鲜大将李舜臣壮烈牺牲,最终取得抗击日本侵略的胜利。

时空填充

下图为 8 世纪阿拉伯人商业活动示意图,读图并完成下列要求。



- 当时中国的政权是_____。
- 写出下列序号代表的城市。
①_____; ②_____; ③_____;
④_____。

- 在图中画出从①②处到③处的商路。

术语简答

- 简述阿拉伯帝国对世界文化发展的贡献。
- 概括指出奥斯曼帝国崛起对东西方交流产生的影响。
- 列举高丽王朝仿效中国唐朝制度的表现。
- 列举古代非洲和美洲主要国家。

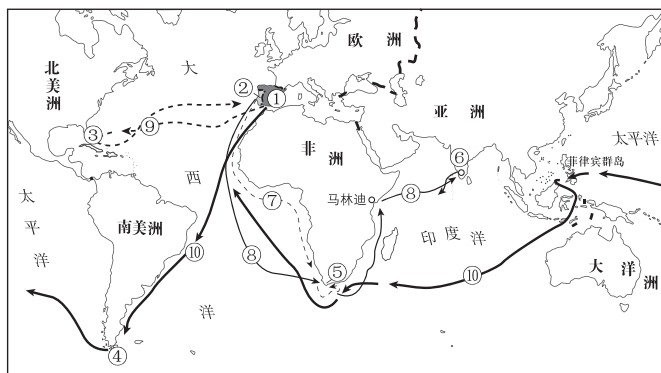
默写 5 全球航路的开辟

核心填空

- 从 13 世纪开始, _____ 半岛的居民迈向海洋的步伐不断加快。
- 14—15 世纪,地中海沿岸城市出现了 _____。随着 _____ 逐渐解体, _____ 和租地农场的出现,西欧各国的 _____ 迅速发展,对金银财富的需求以及开拓 _____ 的意愿日益迫切。
- 《 _____ 》使当时西欧部分没落的贵族、 _____ 等有冒险精神的人认为富裕的 _____ 和未知的海外是实现发财梦的最好场所。
- _____ 威胁到东西方之间 _____ 的安全,使得来自亚洲的商品(丝绸、瓷器、香料)因加价而奇贵。西欧人急于从 _____ 开辟通往东方的新航路。
- _____ 鼓励冒险精神;西欧人希望通过向海外扩张来传播 _____。

时空填充

下图为新航路开辟示意图,读图并完成下列要求。



- 写出下列序号代表的地理位置、城市或国家。
① _____; ② _____; ③ _____;
④ _____; ⑤ _____; ⑥ _____。
- 写出序号所对应航线的开辟者。
⑦ _____; ⑧ _____; ⑨ _____;
⑩ _____。

术语简答

- 概述新航路开辟的条件。
- 名词解释:航海图。(从条件、特点或内容、地位三个角度回答)
- 列举新航路开辟的主要标志。

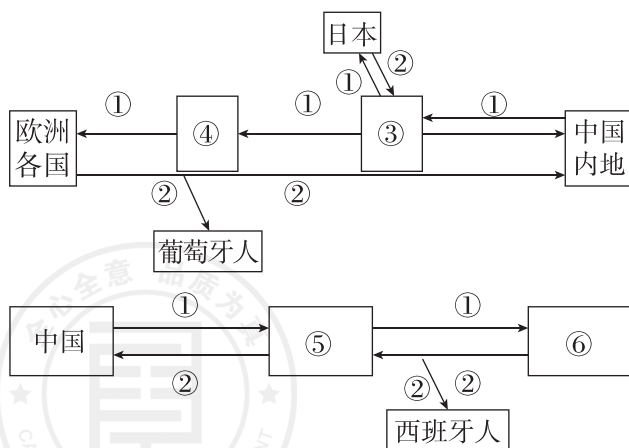
默写6 全球联系的初步建立与世界格局的演变

核心填空

- _____的开辟,促进了世界各地人们的往来;随着欧洲人入侵并在美洲建立殖民地,_____人口减少。欧洲人大批来到美洲,并把非洲黑人作为_____贩卖到美洲。美洲成为世界上_____程度很高的地区。
- _____促进了世界动植物的大交流。据统计,当今世界的植物食品中,约有1/3的品种源自_____。人口和动物的全球流动导致了各种_____的传播,传染病造成的原住民的死亡和原有社会的解体,是欧洲人能够在美洲迅速建立_____的重要原因之一。人口、动植物以及病原体跨区域大范围的传播和交流,改变了世界的_____格局和_____状态。
- 16世纪,葡萄牙将_____变成殖民地,并在非洲沿岸、印度_____、马六甲和中国_____等地建立了几十个殖民据点和商站;西班牙的殖民侵略以_____为主,除_____之外的中、南美洲广大地区,以及亚洲的_____都成为其殖民地。
- 新航路的开辟,给_____提供了新的活动场所,欧洲出现了_____和价格革命。_____与流通量成倍增长;_____与证券交易所出现,欧洲的_____发生了重大变化;贸易中心从地中海转移到_____沿岸,英国、法国、荷兰等新的商业强国崛起。

时空填充

新航路开辟大大提升了海路在世界贸易中的重要性,根据图中提示完成要求。



- 图中①②代表的物品分别是①_____、②_____。

- 写出下列序号代表的城市或地区。

③_____;④_____;⑤_____;
⑥_____。

- 概括上述海路开辟对世界贸易的影响:_____。

术语简答

- 概括三角贸易形成的原因,并写出三角贸易的航程。

- 概述“价格革命”出现的原因、表现及影响。

- 概括早期殖民扩张对国际格局的影响。